

6.SINIF KTT-9

SALON GÖREVLİLERİNİN DİKKATİNE !

OPTİK FORMLARI, T.C. KİMLİK NUMARASI, AD SOYAD BİLGİLERİ VE SINAV GİRİŞ BELGELERİNİ
KONTROL EDEREK ADAYLARA TESLİM EDİNİZ.

KONU TARAMA TESTİ

T.C KİMLİK NUMARASI												
ADI												
SOYADI												
SALON NO										SIRA NO		

1. BU KİTAPÇIKTA TOPLAM **75 SORU** BULUNMAKTADIR. SINAV SÜRESİ **155 DAKIKADIR**
- | | | |
|-----------------|---|---------|
| TÜRKÇE | : | 15 SORU |
| SOSYAL BİLİMLER | : | 15 SORU |
| İNGİLİZCE | : | 15 SORU |
| MATEMATİK | : | 15 SORU |
| FEN BİLİMLERİ | : | 15 SORU |

2. SINIF ÖĞRENCİ YOKLAMA LİSTESİNDE BELİRTİLEN SINIFTA VE SIRA NUMARASINDA OTURUNUZ.
3. CEVAP KÂĞIDINDAKİ KİMLİK BİLGİLERİNİN DOĞRULUĞUNU KONTROL EDİNİZ. BİLGİLER SİZE AİT DEĞİLSE VEYA
CEVAP KÂĞIDI KULLANILMAYACAK DURUMDAYSA SINAV GÖREVLİLERİNE BİLDİRİNİZ.
4. KİTAPÇIK TÜRÜNÜ CEVAP KÂĞIDINDAKİ İLGİLİ ALANA KODLAYINIZ.
5. CEVAP KÂĞIDI ÜZERİNDEKİ KODLAMALARI KURŞUN KALEMLE YAPINIZ.

ADAYIN İMZASI

T.C. KİMLİK NUMARASI VE ADI - SOYADI
BİLGİLERİMİ KONTROL ETTİM.

TÜRKÇE

Bu testte 15 adet soru vardır.

1. I. Sizin evden bizim eve tek araç ile gelebilirsiniz. (Vasıta)
II. Oyuncular, yarışma bitiminde evine gitti. (Müسابaka)
III. Sonbahar gelince tüm ağaçlar yapraklarını döker. (Güz)
IV. Savaş bir toplumu en derinden etkileyen olaydır. (Kavga)

Numaralanmış cümlelerde geçen altı çizili sözcüklerden hangisinin eş anlamlısı yay ayrıca içinde yanlış verilmiştir?

- A) IV. B) III C) II. D) I.

2. Beykoz isminin nereden geldiğine ilişkin çeşitli rivayetler söz konusudur. Bu rivayetler içerisinde en meşhuru, Beykoz isminin Kocaeli beylerbeyinin Beykoz'da oturmasına nispetle üretilenidir. Rivayetlere göre Farsçada köy anlamına gelen "kos" sözcüğünün Türkçe "bey" sözcüğüne eklenmesi sonucunda ortaya çıkan Beykos (Beyköyü) sözcüğü kentin adı olarak kalmıştır. Beykos zamanla Beykoz'a dönüşmüştür.

Bu metinden "Beykoz" ile ilgili aşağıdakilerden hangisine değinilmemiştir?

- A) Farklı dildeki bir sözcüğün dilimize eklenmesi sonucunda "Beykoz" isminin oluştu-
rulduğuna
B) İsmi nereden geldiğiyle ilgili farklı söy-
lentilerin olduğuna
C) Eski zamanlarda bir beyin orada oturmuş
olduğuna
D) Beykoz isminin karışık bir yapıya sahip ol-
duğuna

3. **Öğrenci:** Sıfat nedir öğretmenim?

Öğretmen: Bir ismi nitelik, nicelik, gösterme, sayı, sıra vb. yönlerden niteleyen veya belirten sözcüklerdir.

Aşağıdaki cümlelerde eşleştirilen sıfatlardan hangisi yanlıştır?

Cümleler	Sıfatların Türü
A) Hangi dağda kurt öldü?	Soru Sıfatı
B) Soru yazmak için tüm dergileri topladı.	Belgisiz Sıfat
C) Bugün eve öteki yoldan gittik.	Niteleme Sıfatı
D) Biz kardeşim ile yarım elmayı bile bölerek yeriz.	Sayı Sıfatı

4. Teknoloji artık elimizde âdeta sabit bir organ hâline gelebiliyor. Doğayla konuşmak artık kimseye cazip gelmiyor. Neden gelsin ki? Hangi toprağın telefonu, bilgisayarı var, hangi karınca sizin fotoğrafınızı beğenebilir veya bir fotoğrafçı gibi sürekli sizin fotoğrafınızı çekebilir.

Bu metindeki altı çizili sözcüklerin yapıları aşağıdakilerden hangisinde sırasıyla doğru olarak verilmiştir?

- A) Basit - Birleşik - Türemiş
B) Birleşik - Basit - Türemiş
C) Türemiş - Basit - Birleşik
D) Basit - Türemiş - Birleşik

5. Ankara'daki bir taksi durağında ilk beş sırada Yenimahalle, Sincan, Çubuk, Çankaya, Mamak'a gidecek taksiler bulunmaktadır. Her sıra farklı bir ilçe için ayrılmıştır. Filiz, Meryem, Tülay, Saliha ve Fazilet farklı ilçelere gitmek üzere taksi durağına gelmişlerdir.

- Sıra numaraları soldan sağa doğru artmaktadır.
- Tülay 3 numaralı sıradan, Hafize 4 numaralı sıradan kalkacak taksiye binecektir.
- Sincan sırasının hemen solunda Yenimahalle, hemen sağında ise Çubuk sırası bulunmaktadır.
- Çubuk sırası Çankaya ve Mamak sıralarının solunda yer almaktadır.

Bu bilgilere göre aşağıdakilerden hangisi kesin olarak yanlıştır?

- A) Saliha, Çankaya ya da Mamak'a gitmiştir.
 B) Filiz, Yenimahalle ya da Sincan'a gitmiştir.
 C) Çubuk taksisi 3. sırada kalkmaktadır.
 D) Sincan taksisi 1. sırada kalkmaktadır.

Aşağıdaki görselde 2019 yılının Ekim – Aralık dönemine ait turizm istatistikleri verilmiştir.



6. **Bu görsele göre aşağıdakilerden hangisine ulaşamaz?**

- A) 2018 yılının Ekim – Aralık döneminde yurt dışını ziyaret eden vatandaş sayısına
 B) 2019 yılının Ekim – Aralık döneminde ülkemizden çıkış yapan ziyaretçi sayısının 2018 yılının aynı dönemine göre arttığına
 C) 2018 yılının Ekim – Aralık dönemindeki turizm giderinin miktarına
 D) 2018 yılının Ekim – Aralık dönemi ile 2019 yılının aynı dönemi arasındaki turizm geliri farkına

7. Çekim ekleri, sözcüğe yeni bir anlam kazandırmaz. Ancak sözcüğün diğer sözcüklerle bağ kurmasını ve cümlede farklı görevler almasını sağlar. Yapım ekleri ise sözcüğe yeni bir anlam kazandırır.

Buna göre aşağıdaki altı çizili sözcüklerden hangisi hem yapım hem de çekim eki almıştır?

- A) Saatimin pili bittiği için size getireyim istedim.
 B) Arkadaşlarımla okulda yaşadığımız anları unutamıyorum.
 C) Mahalledeki evlerin yıkım kararı alınması hepimizi üzdü.
 D) Masmavi denize girmenin hayali ile yatıp kalkıyorum.

8. Büyüklerimizin zamanla ilgili nasihatlerine kulak tıkarız hepimiz. Önümüzde zamanın daha çok olduğunu düşünürüz. Ama her yaş diliminde "Ya daha çok zaman var, şunu da yapmayı ileriye bırakalım." deme hastalığımızın hiçbir zaman için tedavi edilemeyeceğinin farkında olmalıyız.

Bu paragrafın ana fikri aşağıdakilerden hangisidir?

- A) Bugünün işini yarına bırakmadan bugün halletmeliyiz.
 B) Her zaman tüm işlerimizi zamanında halledemeyiz.
 C) Yapılacak işlerin bazılarını ertelemek insanı rahatlatır.
 D) Bir işi yapabilecek başka bir zamanımız daha varsa o işimizi erteleyebiliriz.

9. En kolay kalay maddesi ile alaşım gerçekleştirebilen kurşun, elektrik sigortası yapımında sıkça kullanılmaktadır. Dayanıklı kurşun elde etmek için en çok yararlanılan elementlerden biri de antimon elementidir.

Altı çizili cümlenin anlam özelliği aşağıdakilerden hangisidir?

- A) Amaç – sonuç B) Tahmin
 C) Varsayım D) Neden – sonuç

10. Bir şiirde karşıt anlamlı sözcüklerden hareketle iki zıt durumun verilmesine tezat (karşıtlık) denir.

Buna göre aşağıdaki dizelerin hangisinde tezat vardır?

- A) Seni yaşamamıza katan kuş
 Kızıl güller diker bahçemize
 B) Ne zaman ayrılır iyi ile kötü
 Ya da dünya hep böyle mi kalır?
 C) Kırmızı iri güller her zaman
 Büyük acıları çağrıştırır bende
 D) Yaşam söylüyor şarkılarını
 Şafakla başlayan çekiç sesleri

11. Eteğimin pilesi, saçımın lülesi
 Şarkımın melodisi, günlerimin güneşi
 Evimizin direği, hayallerimin kahramanı
 Her şeyimsin sen.

Bu dizelerde kaç tane isim tamlaması vardır?

- A) 6 B) 5 C) 4 D) 3

12. Deyimler Türkçemizin zenginliğidir. Duygu ve düşüncelerimizi deyimlerle daha kısa ve etkili bir biçimde anlatabiliriz. Örneğin "belleğine iyice yerleştirmek" anlamında - - - - "çaresiz bir durumda kalmak" anlamında - - - -, "bir işin sonucunu tahmin edebilmek" anlamında - - - - deyimlerini kullanırız.

Aşağıdakilerin hangisi bu metinde boş bırakılan yerlerden herhangi birine getirilemez?

- A) boyun bükme
B) mecbur kalmak
C) aklına kazımak
D) uzağı görmek

13. Somut olarak yer bildirmeyen "alt", "üst" ve "üzeri" sözcüklerinin sona getirilmesiyle kurulan birleşik kelimeler bitişik yazılır.

Bu açıklamaya göre aşağıdaki cümlelerin hangisinde yazım yanlışı vardır?

- A) Burası ayakaltı bir yer olduğu için gelmek istemezdi.
B) Herkes akşamüzeri toplanacak ve bu konuyu konuşacak.
C) Gözaltı şişliklerine nasıl çözüm bulunur, diye sordu.
D) Yarın yeni bir dizüstü bilgisayar almaya gideceğim.

14. Türk edebiyatının en değerli şair ve yazarlarından biri olan Sabahattin Ali; eserleri birçok dile çevrilmiş, şiirleri bestelenmiş bir isimdir.

Bu cümle aşağıdakilerin hangisinde verilenlerin birleştirilmesiyle oluşturulmuştur?

- A) • Sabahattin Ali, Türk edebiyatının en değerli şair ve yazarlarından biridir.
• Sabahattin Ali'nin eserleri birçok dile çevrilmiş, şiirleri bestelenmiştir.
- B) • Sabahattin Ali, Türk edebiyatındaki şair ve yazarlarından biridir.
• Sabahattin Ali'nin eserleri birçok dile çevrilmiş, şiirleri bestelenmiş bir isimdir.
- C) • Sabahattin Ali, Türk edebiyatının en değerli şair ve yazarlarından biridir.
• Sabahattin Ali; eserleri, şiirleri bestelenmiş bir isimdir.
- D) • Sabahattin Ali'nin eserleri birçok dile çevrilmiş, şiirleri bestelenmiştir.
• Sabahattin Ali, Türk edebiyatının en değerli şairlerinden biridir.

15.

DIŐ TİCARET İSTATİSTİKLERİ

Türkiye'nin ihracatı, haziranda geçen yılın aynı ayına göre %1,3, ithalatı da %3,8 azaldı.

Dıő ticaret açığı %9,1 azalışla 6 milyar 48 milyon dolardan 5 milyar 497 milyon dolara düőtü.

■ Haziran 2017

■ Haziran 2018

■ Ocak - Haziran 2018

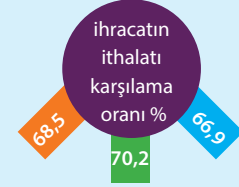
İHRACAT (DOLAR)

13 MİLYAR 125 MİLYON

12 MİLYAR 954 MİLYON

82 MİLYAR 223 MİLYON

%1,3 AZALIŐ



İTHALAT (DOLAR)

19 MİLYAR 174 MİLYON

18 MİLYAR 451 MİLYON

122 MİLYAR 960 MİLYON

%3,8 AZALIŐ

AB'YE YAPILAN İHRACAT

AB'ye yapılan ihracat

%6,4

ARTTI

► 6,6 MİLYAR \$

AB'nin ihracattaki payı

% 47,5

%51,2

EN FAZLA İHRACAT YAPILAN ÜLKELER (DOLAR)

ALMANYA 1 MİLYAR 308 MİLYON

İNGİLTERE 882 MİLYON

İTALYA 815 MİYON

ABD 627 MİLYON

EN FAZLA İTHALAT YAPILAN ÜLKELER

ÇİN 1 MİLYAR 838 MİLYON

RUSYA 1 MİLYAR 794 MİLYON

ALMANYA 1 MİLYAR 793 MİLYON

ABD 1 MİLYAR 149 MİLYON

Bu görselden hareketle aşağıdakilerden hangisine ulaşamaz?

- A) Haziran 2018'deki ithalatın 2017 yılının aynı dönemindeki ithalattan az olduğuna
- B) Almanya'ya yapılan ihracatın Almanya'dan yapılan ithalattan fazla olduğuna
- C) 2018 yılının Ocak – Haziran dönemindeki ithalat ile ihracat miktarları arasındaki farka
- D) AB'nin ihracattaki payı Haziran 2018'de, Haziran 2017'den daha fazladır.

1. Aşağıdakilerden hangisi ormanları korumak için alınması gereken tedbirlerinden biri değildir?

- A) Orman içi yangına müdahale yollarını açmak
B) Ormanlar içindeki mesire alanlarını genişletmek
C) Kaçak ağaç kesimi yapanlara ağır cezalar getirmek
D) Yangınlarda yok olan ağaçların yerine yenilerini dikmek

2. I. İlgü

II. Yetenek

III. Beceri

Meslek seçiminde yukarıda verilenlerden hangileri dikkate alınmalıdır?

- A) I ve II. B) I ve III.
C) II ve III. D) I, II ve III.

3.



Buse

- Müzik alanına ilgim ve yeteneğim var.
- Seslerin inceliklerini algılayabiliyorum.
- Müzik aleti kullanabiliyorum.
- Sesimi iyi bir şekilde kullanabiliyorum.

Buse'nin özellikleri dikkate alındığında, aşağıdaki mesleklerden hangisini seçmesi daha uygun olur?

- A) Mühendis B) Ressam
C) Müzisyen D) Diş hekimi

4.

“....., devletin millet ve ülkeye karşı yerine getirmeye mecbur olduğu görevlerini yapabilmesi için gereken giderlere bireyin katılma payıdır.”
Mustafa Kemal Atatürk

Yukarıdaki cümlede, yer alan boşluk aşağıdakilerden hangisi ile doldurulmalıdır?

- A) Vergi B) Adalet
C) Eğitim D) Askerlik

5. Tarım ürünleri kimi zaman gıda, kimi zaman sanayide ham madde olarak kullanılmaktadır.

Dokuma sanayisinde ham madde olarak kullanılan tarım ürünü aşağıdakilerden hangisidir?

- A) Çay
B) Mısır
C) Pamuk
D) Ayçiçeği

6. 1071 Malazgirt Zaferi'nden sonra Beylikler Dönemi'nde Anadolu'nun Türkleşmesi hızlanmıştı. Bu beylikler buldukları yerlerde kalmayıp yeni yerler fethetmeye devam ettiler. Özellikle Bizans'a karşı fetih hareketlerine giriştiler. Moğol istilasından kaçan Türkmenler buralara yerleştirildiler. Türkler Anadolu'da yeni şehir, kasaba ve köyler kurdular. Küçük yerleşim birimlerini geliştirerek önemli merkezler hâline getirdiler. Bu merkezlerde, içinde cami, medrese, kütüphane gibi yapıların bulunduğu külliyeleer açtılar. Yer isimlerini Türkçeleştirdiler.

Yukarıdaki gelişmelerin sonuçları arasında aşağıdakilerden hangisi gösterilemez?

- A) Anadolu'da Türk nüfusu artmaya başladı.
B) Anadolu'nun imar edilmesi sağlandı.
C) Anadolu önemli bir kültür ve medeniyet merkezi hâline geldi.
D) Anadolu'da Bizans hakimiyeti tamamen sona erdi.

7. Köylüler İmece Usulü Yollarını Yapıyor

Adıyaman'ın Gölbaşı ilçesine bağlı Savran içerisine beton yol yapılıyor. Kendi aralarında topladıkları parayla kum ve çimento alarak imece usulüyle köyün içini beton yol ile kaplayan köylüler, köylerinin Çetintepe Barajı altında kalacağı için köye pek hizmet yapılmadığını, köyün baraj altında kalmasının en az 5 yıl süreceğini ifade ederek bu zamana kadar kendi hizmetlerini kendilerinin yapacaklarını belirttiler. Köylüler, kışın çamurdan geçilmesi zor olan yerlerin yolunu el birliğiyle imece usulüyle çalışarak yaptıklarını söyledi.

(Genel ağdan alınmıştır. 02.05.2018)

Yukarıdaki metinde bahsedilen köylüler hakkında;

- I. Toplumsal dayanışma ve yardımlaşma örneği sergiledikleri
- II. İmece usulünü uygulayarak toplumsal birlikteliğin oluşturulması açısından çok önemli bir çalışmaya imza attıkları
- III. Karşılıksız olarak bir araya gelip sorunu çözme konusunda sosyal bir duyarlılık gösterdikleri
- IV. Var olan ihtiyaçlarının karşılanması konusunda çaba göstermeyip sadece devletten beklenti içine girdikleri

Çıkarımlarının hangileri yapılabilir?

- | | |
|-------------------|-----------------------|
| A) I - II ve III | B) I - II ve IV |
| C) II - III ve IV | D) I - II - III ve IV |

8. Meslek belli bir eğitim ile kazanılan sistemli bilgi ve becerilere dayalı, insanlara yararlı mal üretmek, hizmet vermek ve karşılığında para kazanmak için yapılan iş. Bireyler, yapacakları meslek seçiminde bilinçli bir şekilde hareket etmelidir.

BİLGEN: Ben bir doktorem. Lise yıllarımda biyoloji dersine olan ilgim oldukça fazlaydı. Üniversite sınavına girip tıp fakültesine girdim. Eğitim hayatım sona erince kazandım. Uzun bir eğitimden sonra mesleğime başladım. İlgili ve yeteneklerime uygun bir meslek seçtim. İnsanların yaşadıkları sıkıntıları benim strese girmeme neden oluyor.

AHMET: Ben bir avukatım. Üniversitemde hukuk fakültesine girdim. Eğitim hayatım sona erince kazandım. Uzun bir eğitimden sonra mesleğime başladım. İlgili ve yeteneklerime uygun bir meslek seçtim. İnsanların yaşadıkları sıkıntıları benim strese girmeme neden oluyor.

KAZIM: Ben Türk Silahlı Kuvvetlerinde görev yapmaktayım. Mesleğimi ve ülkemi çok seviyorum. Ailemin ısrarı ile üniversitede Küçüküğümden beri asker üniformaları çok dikkatimi çeker ve kendimi o üniforma içinde hayal ederdim. Zorluklar ile mücadele edebilen, sabırlı ve sportmen bir kişiyim.

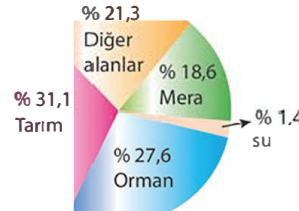
BİLAL: Ben bir inşaat mühendisiyim. Babam da mühendisti. Ailemin ısrarı ile üniversitede mühendislik bölümünü okudum. Gelirim oldukça yüksek olduğu için mesleğimi yapıyorum. Küçükükten beri pilot olmak istediğim için mesleğimi yapıyorum. Amatör olarak pilotluk yapıyorum.

Yukarıdaki anlatımlara bakıldığında hangi kişilerin doğru bir meslek seçiminde buldukları söylenebilir?

- | | |
|--------------------|-------------------|
| A) Bilgen ve Ahmet | B) Ahmet ve Kazım |
| C) Kazım ve Bilal | D) Ahmet ve Bilal |

9.

Türkiye'deki Arazilerin Kullanım Durumu



2016 TÜİK Verileri

Yukarıdaki verilere bakıldığında;

- I. Ülkemiz topraklarının dörtte birinden fazlası orman arazisi özelliği taşımaktadır.
- II. Hayvancılık amacı ile kullanılan meralar daha çok ülkemizin doğusunda yer alan bölgelerde bulunur.
- III. Topraklarımızın yaklaşık üçte birinde tarım yapılmaktadır.
- IV. Orman arazisi, tarımsal araziden daha az yer kaplamaktadır.

sonuçlarının hangilerine ulaşılması mümkün olur?

- | | |
|------------------|-------------------|
| A) I - II ve III | B) II - III ve IV |
| C) I - III ve IV | D) I ve III |

10. Aşağıdaki haritada Türkiye'nin coğrafi konumu ve komşuları verilmiştir.



Yukarıdaki harita incelendiği zaman Türkiye hakkında;

- I. Üç tarafı denizle çevrili olup, Akdeniz ile Karadeniz'i birbirine bağlayan İstanbul ve Çanakkale boğazlarına sahip olan bir ülkedir.
- II. Zengin petrol yatakları olan Orta Doğu ülkeleri ile sanayisi gelişmiş Avrupa ülkeleri arasında köprü vazifesi görmektedir.
- III. Asya ve Avrupa kıtalarını birbirine bağlamakta olup dünya üzerinde jeopolitik açıdan önemli bir yere sahiptir.

çıkartmalarının hangileri yapılabilir?

- A) I ve II
B) I ve III
C) II ve III
D) I - II ve III

11. Fatih Sultan Mehmet Dönemi Osmanlı Altın Paraları



Yukarıdaki görselde yer alan Osmanlı paralarına bakılarak;

- I. Osmanlı Devleti'nin, ekonomik durumu hakkında bilgi edinilebilir.
- II. Osmanlı Devleti'nde kullanılan yazı ve dil ile ilgili çıkarım yapılabilir.
- III. Osmanlı'daki toplumsal yapının farklı milletlerden oluştuğu söylenebilir.
- IV. İncelenebilmesi için tarihe yardımcı bilim dalı olarak nümismatik biliminden faydalanılmasının gerektiği belirtilebilir.

yargılarının hangilerinin doğru olduğu ifade edilebilir?

- A) I ve II
B) I - II ve IV
C) II - III ve IV
D) I - II - III ve IV

12. DÜNYADA GÖRÜLEN İKLİM TİPLERİ ÖZELLİKLERİ

- I. Toprak donmuş olduğu için bitki örtüsü yoktur. Tarım ürünü yetiştirilemez. Avcılık ve balıkçılık insanların en önemli gelir kaynağıdır.
- II. Yazlar sıcak ve kurak, kışlar ılık ve yağışlı geçer. Yağışlar genelde yağmur şeklinde olup en fazla kış mevsiminde görülür. Doğal bitki örtüsü makidir.
- III. Yaz aylarında aşırı yağış görülürken kış mevsiminde kurak bir dönem yaşanır. Yaz yağışlarının sonucunda ortaya çıkan seller can ve mal kaybına neden olur. Yağışların fazlalığına bağlı olarak pirinç yetiştirilir.
- IV. Güneş ışınlarının dik ve dike yakın bir açı ile geldiği bölgelerde görülür. Sıcaklık çok fazladır. Her mevsim yağışlıdır. Kakao, kauçuk ve muz yetiştirilen önemli tarım ürünleridir.

Yukarıda özelliklerinden bahsedilen iklim tiplerinin adları hangi seçenekte doğru olarak verilmiştir?

	I	II	III	IV
A)	Kutup İklimi	Akdeniz İklimi	Tropikal İklim	Muson İklimi
B)	Kutup İklimi	Akdeniz İklimi	Muson İklimi	Tropikal İklim
C)	Kutup İklimi	Muson İklimi	Tropikal İklim	Akdeniz İklimi
D)	Kutup İklimi	Tropikal İklim	Akdeniz İklimi	Muson İklimi

13. Aşağıdaki kutucuklarda yasama, yürütme ve yargı yetkilerinin Anayasada nasıl ifade edildiği verilmiştir.

Madde 7:I..... yetkisi Türk Milleti adına Türkiye Büyük Millet Meclisi'nindir. Bu yetki devredilemez.

Madde 8:II..... yetkisi ve görevi, Cumhurbaşkanlığı tarafından. Anayasaya ve kanunlara uygun olarak kullanılır ve yerine getirilir.

Madde 9:III..... yetkisi, Türk Milleti adına bağımsız ve tarafsız mahkemelerce kullanılır.

Yukarıdaki kutucuklardaki boşluklara yazılması gereken kavramlar hangi seçenekte doğru olarak verilmiştir?

- A) I. Yasama, II. Yargı, III. Yürütme
B) I. Yürütme, II. Yasama, III. Yargı
C) I. Yasama, II. Yürütme, III. Yargı
D) I. Yargı, II. Yürütme, III. Yasama

14. Türklerin ilk ana vatanı Orta Asya'dır. Orta Asya Türkleri, ticaret ve hayvancılıkla uğraşarak göçebe bir yaşam biçimini tercih etmişlerdir. Türkler, ilk kez bu bölgede tarih sahnesine çıkmışlar ve bilinen ilk Türk devleti olan Büyük Hun İmparatorluğu'nu kurmuşlardır. Zamanla yıkılan devletlerinin yerine Kök Türk Devleti, Kutluk Devleti, Uygur Devleti gibi farklı Türk devletleri kurulmuştur. Türklerin nüfusunun gittikçe artması, hayvan sürülerine yeni otlaklar bulma ihtiyacı, hastalık ve kıtlıklar, Türk boyları arasındaki çekişmeler, Çin'in baskısı, yeni yurt edinme özlemi gibi birçok nedenden dolayı, Türklerin büyük bir çoğunluğu bu bölgeden göç etmek zorunda kalmışlardır.

Bu anlatım okunduğunda;

- I. Tarihte kurulan ilk Türk devletinin adı
- II. Orta Asya Türklerin sosyal ve ekonomik hayatı
- III. Türklerin Orta Asya'ya doğru göç etmelerinin nedenleri
- IV. Türklerin tarih sahnesine çıktığı bölgenin bulunduğu kıta
- V. Orta Asya'da kurulan Türk Devletleri

konularının hangileri hakkında bilgi sahibi olunacağı ifade edilebilir?

- A) I - II ve III
B) I - II - IV ve V
C) II - III- IV ve V
D) I - II - III ve IV

15. Halkın ülke yönetim de söz sahibi olduğu bir yönetim biçimidir. Bu yönetim biçiminde demokrasinin temel ilkelerinden olan milli hâkimiyet ilkesi bulunur. Yani yönetim yetkisi halkın elindedir. Halk belirli aralıklarla yapılan seçimlerle seçilen milletvekilleri aracılığı ile bu yetkiyi kullanıp ülke yönetimine katılır. Günümüzde görülür.
- Bu idare şeklinde yönetme yetkisi halkta değil tek kişinin elindedir. Ülkeyi yöneten kişi hayatta olduğu sürece bu görevini sürdürür. Devletin yöneticisi öldükten sonra yerine gelen kişi ülkenin yöneticisinin soyundan gelen oğlu ya da kan bağı bulunan başka bir kişi olur. Halk yönetimde söz sahibi olmayıp tek kişi hâkimiyeti vardır.

OLIGARŞİ

Bu yönetim şeklinde yönetim yetkisi bir ailenin, grubun ya da küçük bir azınlığın elindedir. Oligarşide söz sahibi olan kişiler ülke ile ilgili kararları alan ve uygulayan kişilerdir. Halkın yeterince özgürlüğü bulunmaz. Ülke yönetiminde görev alan kişiler ülkeyi yöneten azınlık tarafından belirlenir. Geçmiş dönemlerde daha çok görülen bir yönetim şeklidir.

- | | | |
|--|--|--|
| 1. Halk, yönetimde etkin bir şekilde yer alır. | 2. Yönetme yetkisi küçük bir zümrenin elindedir. | 3. Ülke yönetiminde tek kişinin hâkimiyeti vardır. |
| 4. Yönetim babadan oğula geçer. | 5. Halkın, seçme ve seçilme hakkı vardır. | 6. Birden fazla kişi yönetimde söz sahibidir. |
| 7. Siyasi güç ayrıcalıklı bir elindedir. | 8. Hâkimiyet tek kişide toplanmıştır. | 9. Egemenliğin kaynağı millettir. |

Yukarıdaki yönetim biçimleri ile; kutucuklarda verilen özelliklerin eşleştirmesi hangi seçenekte doğru olarak yapılmıştır?

- A) Cumhuriyet:1-5-9
Monarşi : 3-4-8
Oligarşi: 2-6-7
- B) Cumhuriyet:1-4-9
Monarşi : 3-6-8
Oligarşi: 2-5-7
- C) Cumhuriyet:2-6-8
Monarşi : 1-7-9
Oligarşi: 3-4-5
- D) Cumhuriyet:1-5-9
Monarşi : 2-4-8
Oligarşi : 3-6-7

İNGİLİZCE

Bu testte 15 adet soru vardır.

1 - 5. sorularda boş bırakılan yerlere uygun gelen kelime ya da ifadeyi işaretleyiniz.

1. **Selin** : Let's get on the ghost train.
Abby : No, thanks. I feel - - - - when I get on it.
A) fantastic
B) great
C) scared
D) happy

2. **Dave** : I love roller coaster. It's very exciting.
Steve : - - - -. I think it's fantastic.
A) Well done
B) I agree
C) Sorry
D) Fine

3. **Lily** : Do you like carrousel?
Melissa : Of course. - - - -.
A) I don't like it
B) I think it's horrible
C) It's my favorite
D) I hate carrousel

4. **Jack** : It's fantastic to be in the air.
Mary : I want to try it. - - - -.
A) I feel anxious
B) I feel moody
C) It's scary
D) It's amazing

5. **Agatha** : What do you think about carrousel?
Kemal : - - - -. I prefer roller coaster.
A) I think it is horrible
B) I feel happy today
C) I don't think it is boring
D) I agree with you





6.



Shall we get on the wave swinger?

- Seçeneklerden hangisi yukarıdaki öneriyi reddetmektedir?**
A) Of course.
B) Sure, I love it.
C) Yeah, it's my favorite.
D) Thanks, but I hate it.

7. Verilen eşleştirmelerden doğru olanı işaretleyiniz.





- A)  → upset
- B)  → crazy
- C)  → scared
- D)  → frightened

8. It's really exciting and a bit frightening. You can see monsters, skeletons and vampires in the tunnel.

Yukarıdaki tanımlamaya uygun seçenek hangisidir?

- A) Bumper car
B) Ghost train
C) Roller coaster
D) Wave swinger

9.

Bumper car:	
Big wheel:	
Wave swinger:	
Roller coaster:	





John


Yukarıda verilen tabloya göre doğru seçeneği işaretleyiniz.


- A) He prefers bumper cars to wave swinger.
B) He thinks big wheel is fun.
C) He hates wave swinger.
D) He loves roller coaster.


10.

Let's get on the roller coaster.  Ahmet

 Emre: Great. It is my favourite.

 Seda: I prefer carrousel. It is safer.

 Kerim: Good idea. It is really exciting.

 Pelin: OK. I think roller coaster is fun. I'll get the tokens.

--- thinks roller coaster is dangerous.

- A) Emre
B) Seda
C) Kerim
D) Pelin

11-15 sorularda boş bırakılan yere uygun gelen kelime ya da ifadeyi işaretleyiniz.

11. **Hazel** : Can your father take us to the museum?

Jessica : - - - - . He is ill now.

- A) I'm sorry, he can't
- B) See you later, then
- C) Of course, he can
- D) Sorry, I don't understand

12. **Sam** : What does your father do?

Joe : He's a pilot.

Sam : - - - - ?

Joe : No, he can only fly planes.

- A) When did he become a pilot
- B) Can he drive a spaceship
- C) Is he a teacher
- D) Where does he work

13. **Bruce** : - - - -?

Tony : Of course. He's an architect.

- A) What does an architect do
- B) Is your uncle a lawyer
- C) Where does an engineer work
- D) Can your dad draw plans for homes

14.

My mom is a great cook.
- - - - .



- A) She prefers eating at a restaurant
- B) She can cook delicious meals
- C) She can make dresses and skirts
- D) She thinks cooking is horrible

15. **Jack** : - - - - ?

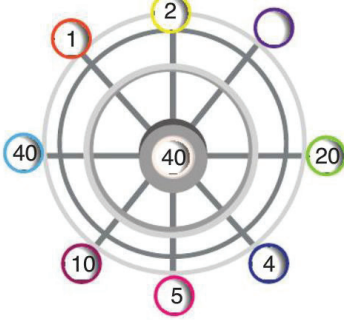
Bob : Maths. I'm good at numbers.

- A) What time does the school start
- B) Do you like drawing and painting
- C) What's your favorite school subject
- D) Are you good at science

MATEMATİK

Bu testte 15 adet soru vardır.

1.



Yukarıdaki dönme dolabın kollarında 40 sayısının çarpanları yazılmıştır.

Eksik olan çarpan aşağıdakilerden hangisidir?

- A) 3 B) 6 C) 8 D) 12

2. **Aşağıdakilerden hangisi doğrudur?**

- A) En küçük asal sayı 1'dir.
B) 20'den küçük 7 tane asal sayı vardır.
C) 75'in asal çarpanları 5 ve 7'dir.
D) 48'in asal çarpanlarına ayrılmış hali $3 \cdot 2^4$ tür.

3. Aşağıda F ve G basketbol takımlarının oynadıkları maçın yaptığı sayılar verilmiştir.

Tablo F ve G Takımlarının Maç Sonuç Tablosu

Takım	Maçın Çeyreklerinde Takımların Yaptığı Sayılar				Maç sonucu
	1. çeyrek	2. çeyrek	3. çeyrek	4. çeyrek	
F	16	?	15	17	
G	18	17	20	14	

G takımı maçı 10 sayı farkla kazandığına göre, F takımı 2. çeyrekte kaç sayı yapmıştır?

- A) 21 B) 17 C) 14 D) 11

4. Ertuğrul, aklından tuttuğu dört basamaklı sayıyı bulmaları için arkadaşlarına aşağıdaki ipuçlarını veriyor;

- 3'e tam bölünür.
- Onlar basamağında 6 rakamı vardır.
- 4'e tam bölünür.

Buna göre Ertuğrul'un tuttuğu sayı aşağıdakilerden hangisi olabilir?

- A) 1263 B) 4116 C) 3260 D) 1764

5. Omlet yapımında kullanılan malzemeler	Menemen yapımında kullanılan malzemeler
<ul style="list-style-type: none"> • Patates • Soğan • Maydanoz • Yumurta • Yağ • Tuz 	<ul style="list-style-type: none"> • Biber • Domates • Soğan • Maydanoz • Yağ • Tuz

Omlet yapımında kullanılan malzemelerin kümesi A, menemen yapımında kullanılan malzemelerin kümesi B olsun.

Buna göre elemanı sadece biber olan küme aşağıdakilerden hangisidir?

- A) $A \setminus B$ B) $B \setminus A$
 C) $A \cap B$ D) $A \cup B$

6. Tablo: İllerin Sıcaklıkları

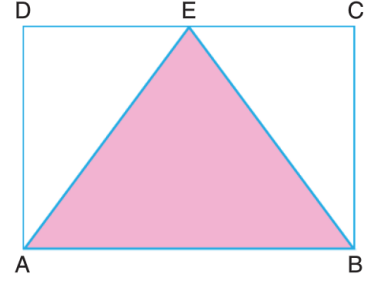
İller	Hava Sıcaklığı (C°)
Ankara	0
Adana	+4
Van	-4
Konya	-2

Yukarıda tablodaki veriler, 4 ilin bir kış gününde ölçülen gündüz ortalama sıcaklık değerleridir.

Buna göre bu illerin hava sıcaklıklarının en soğuktan en sığağa doğru sıralanışı aşağıdakilerden hangisidir?

- A) Van, Konya, Ankara, Adana
 B) Van, Ankara, Konya, Adana
 C) Konya, Van, Ankara, Adana
 D) Adana, Ankara, Konya, Van

7.



Yukarıdaki ABCD dikdörtgenin uzun kenarının uzunluğu 12 cm, kısa kenarının uzunluğu 8 cm'dir.

Buna göre ABE üçgeninin alanı kaç santimetrekaredir?

- A) 72 B) 48 C) 36 D) 24

8.



Yandaki bidonun $\frac{1}{3}$ 'ü su ile doludur. Bidona 12 litre su daha eklendiğinde bidon tamamen doluyor.

Buna göre bidon kaç litre su almaktadır?

- A) 15 B) 18 C) 24 D) 36

9. Tablo: Kesir ve Ondalık Gösterimi

No	Kesir	Ondalık Gösterim
1	$\frac{1}{4}$	0,25
2	$\frac{2}{5}$	0,4
3	$1\frac{13}{50}$	1,26
4	$\frac{115}{500}$	1,23

Yukarıdaki tablo, bazı kesirlerin ondalık gösterimlerini göstermektedir.

Kaç no'lu kesrin ondalık gösterimi yanlış verilmiştir?

- A) 1 B) 2 C) 3 D) 4

10. $\overline{46,528}$

Onlar bas. yuvarlama	Birler bas. yuvarlama	Onda birler bas. yuvarlama	Yüzde birler bas. yuvarlama
50	47	46,5	46,52
1. çıkış	2. çıkış	3. çıkış	4. çıkış

Yukarıda 46,528 sayısı yuvarlama makinesi ile istenilen basamaklara yuvarlanıyor.

Hangi çıkıştaki yuvarlama yanlış yapılmıştır?

- A) 1. B) 2. C) 3. D) 4.

11. Tablo: Boy uzunluğu - Kütle

Kişi	Boy (cm)	Kütle (kg)
Ramazan	185,5	74,2

Tabloda Ramazan'ın boy ve kilosu verilmiştir. **Ramazan'ın kütesinin boyuna bölümü aşağıdakilerden hangisidir?**

- A) 0,4 B) 2,5 C) 4 D) 25

12. Bir sezon boyunca Burak ve Gomis toplam 60 gol atmışlardır. Burak'ın attığı gol sayısının, Gomis'in attığı gol sayısına oranı $\frac{2}{3}$ 'tür.

Gomis sezonun ilk yarısında 20 gol attığına göre ikinci yarısında kaç gol atmıştır?

- A) 16 B) 12 C) 8 D) 4

13.



Babam bana 30 lira harçlık verdi. C lirasını harcadım ve geriye kalanını 5 günde eşit harcamak zorundayım.

Seval'in bir günde harcayacağı parayı veren cebirsel ifade aşağıdakilerden hangisidir?

A) $\frac{30 - C}{5}$

B) $\frac{30 + C}{5}$

C) $(30 - C) \cdot 5$

D) $\frac{5 - C}{30}$

14.

13, A, B, 4, 3

Yukarıdaki veri grubunun açıklığı 10 olduğuna göre A + B en fazla kaç olabilir?

A) 28

B) 26

A) 25

B) 23

15. Komşu bütünler iki açıdan biri diğerinin 3 katından 40 fazla ise küçük açı kaç derecedir?

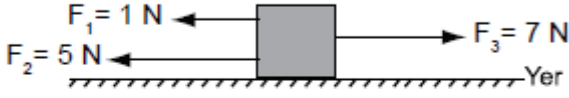
A) 70

B) 55

C) 43

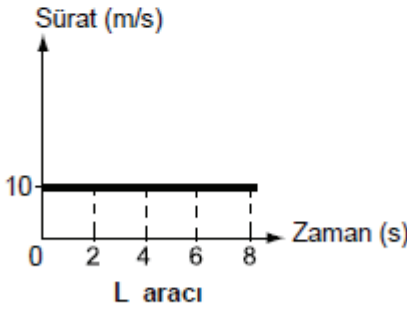
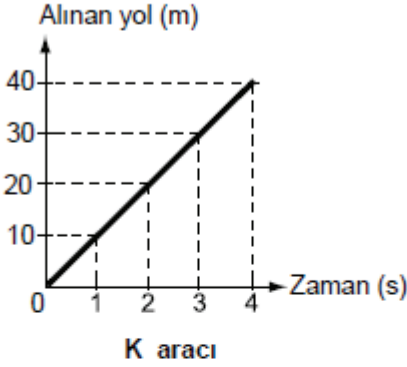
D) 35

1. Bir kutu şekildeki gibi aynı doğrultulu F_1 , F_2 ve F_3 kuvvetleriyle çekilmektedir.



Kutuya etki eden bileşke kuvvet aşağıdaki işlemlerden hangisiyle hesaplanır?

- A) $1+5+7$ B) $1-5-7$
 C) $7-1-5$ D) $7+1-5$
2. Başlangıç noktaları aynı olan K ve L araçlarına ait grafikler verilmiştir.



Grafiklere göre bu araçların sürati ve aldıkları yol ile ilgili olarak aşağıdakilerden hangisi doğrudur?

- A) 2. saniyede her iki araç da eşit mesafe yol almıştır.
 B) 4. saniyede her iki aracın da sürati farklıdır.
 C) K aracının sürati artmakta, L aracı sabit süratle yol almaktadır.
 D) K aracı aynı sürede L aracından daha fazla yol almıştır.

3. Zeynep, elindeki alüminyum folyoyu iki parçaya ayırıp, birini düzgün şekilde kartona yapıştırdı. İkinci parçayı ise buruşturup daha sonra biraz düzelterek kartona yapıştırdı.

Her iki alüminyum folyoya baktığında düzgün olanda kendisini net olarak gördü. Ancak buruşturduğu alüminyum folyodaki görüntüsü net değildi.

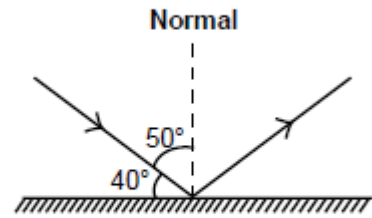
Zeynep, yaptığı bu etkinlikte yüzeylerin özellikleri ile ilgili

- I. Yüzeyin pürüzsüz olması, net görüntü oluşmasını sağlar.
 II. Yüzeylerin pürüzlü olması, ışığı dağınık yansımalarına sebep olur.
 III. Buruşuk alüminyum folyo ışığı yansıtmaz.

çıkarımlarından hangilerine ulaşır?

- A) Yalnız I B) Yalnız III
 C) I ve II. D) I ve III.

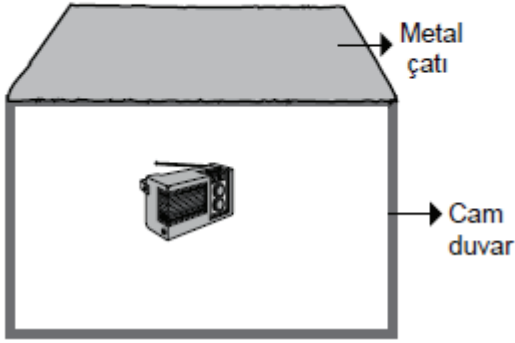
4. Bir düzlem aynaya gönderilen ışık ışınının izlediği yol şekildeki gibidir.



Buna göre yansıma açısı kaç derecedir?

- A) 10 B) 40 C) 50 D) 90

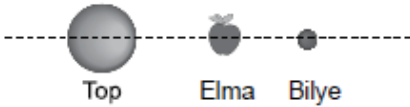
5. Müzik çalmakta olan bir radyo, şekildeki gibi her tarafı kapalı bir ev modeli içine konulduğunda sesi dışarıdan duyulabiliyor.



Bu ev modelinde çatı ve duvarda aynı şekilde hangi malzemeler kullanılırsa ses dışarıdan daha az duyulur?

	Çatı	Duvar
A)	Cam	Metal
B)	Cam yünü	Sünger
C)	Metal	Ayna
D)	İnce kâğıt	Metal

6. Bir öğrenci elma, top ve bilye kullanarak şekildeki Güneş, Dünya ve Ay modelini oluşturuyor.



Bu modelin yeni ay evresini göstermesi için öğrenci aşağıdakilerden hangisini yapmalıdır?

- A) Bilye ve elmanın birbiriyle yerini değiştirmelidir.
 B) Top ve elmanın birbiriyle yerini değiştirmelidir.
 C) Elmayı topa yaklaştırmalıdır.
 D) Top ve bilyenin birbiriyle yerini değiştirmelidir.

7. I. Su
 II. Taş
 III. Hava

Yukarıda verilen maddelerden hangilerinin tanecikleri öteleme hareketi yapar?

- A) Yalnız I
 B) Yalnız II
 C) I ve III.
 D) II ve III.

- 8.

Bu kış daha soğuk olmasına rağmen bahçedeki borularda su donmadı.

Peki, suların donmaması için ne yaptınız?



Zeynep Hanım



Esra Hanım

Zeynep Hanım'ın Esra Hanım'a verdiği cevap aşağıdakilerden hangisi olabilir?

- A) Boruları cam yünü ile kaplattık.
 B) Daha pahalı olan borularla değiştirdik.
 C) Boruları toprağın üzerinden geçirdik.
 D) Boruları ısı iletimi daha iyi olan borularla değiştirdik.

9. Elif, yemek pişirirken kullandığı tavanın sapını tuttuğunda eli yanmaktadır.

Elif, elinin yanmaması için aşağıdakilerden hangisini yapmalıdır?

- A) Tavanın sapını alüminyum folyo ile kaplamalı
 B) Tavanın sapını kalın kumaş eldivenle tutmalı
 C) Tavanın sapını naylon poşetle tutmalı
 D) Tavanın sapını demir maşa ile tutmalı

10. Tabloda farklı maddelere ait yakıt türlerine örnek verilmek istenmiştir.

Yakıt türü	Örnek
Sıvı	I
II	Kok kömürü

Buna göre I ve II numaralı yerlere aşağıdakilerin hangisinde verilenler yazılmalıdır?

I	II
A) Doğal gaz	Gaz
B) Linyit	Katı
C) Mazot	Sıvı
D) Gaz yağı	Katı

11. Bir öğrenciden insan vücudundaki bazı organları, görevleriyle eşleştirmesi istenmiştir.

Organlar	Görevler
• Kalp	I. Kanı kalpten vücuda dağıtır.
• Atardamar	II. Kanı kalbe getirir.
• Toplardamar	III. Kan ile hücreler arası madde alışverişi sağlar. IV. Kasılıp gevşeyerek kanı vücuda pompalar.

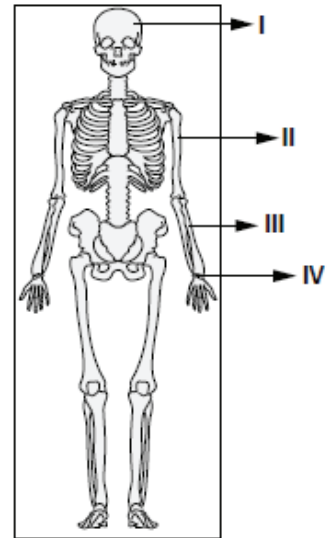
Buna göre kaç numaralı görev bir organla eşleştirilemez?

- A) I. B) II. C) III. D) IV.

12. Aşağıdakilerden hangisi destek ve hareket sistemine zarar verir?

- A) Düzenli olarak egzersiz yapma
B) Kalsiyum içeren besinlerle beslenme
C) Güneş ışığından yeterli şekilde yararlanma
D) Ağır cisimleri kaldırırken ağırlığı bel kısmına verme

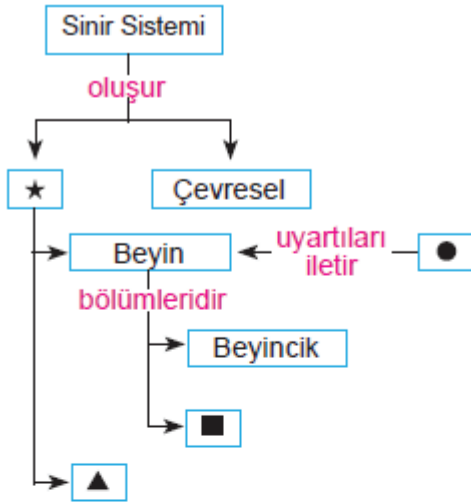
13. Şekilde insan iskeletinin bazı kısımları numaralandırılarak gösterilmiştir.



Buna göre yassı ve kısa kemikleri göstermek isteyen bir öğrenci kaç numaralı kısımları seçmelidir?

- A) I ve III. B) II ve III.
C) I ve IV. D) II ve IV.

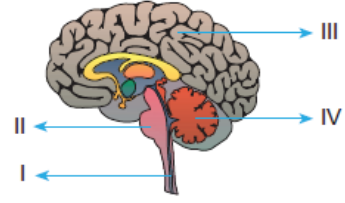
14.



Yukarıda verilen kavram haritasında sembollerle temsil edilen yerlere aşağıdakilerden hangileri gelmelidir?

	★	■	▲	●
A) Merkezî	Omurilik	Omurilik soğani	Omurilik soğani	Duyu organları
B) Merkezî	Omurilik soğani	Omurilik soğani	Duyu organları	Omurilik
C) Merkezî	Omurilik	Omurilik	Duyu organları	Omurilik soğani
D) Merkezî	Omurilik soğani	Omurilik soğani	Omurilik	Duyu organları

15.



Geçirdiği kazadan sonra uzun süre hafızasını kaybeden bir kişinin bu durumu yaşaması numaralandırılmış kısımlardan hangisinin işlevini yerine getirememesi ile açıklanabilir?

- A) I B) II C) III D) IV

Ücretsiz

7.SINIFLARA ÖZEL

LGS KAMPIMIZ

başladı!

yasincoskun.com.tr



Bilgi için

(0232) 7000 345

ŞUBELERİMİZ

ÇANKAYA VIP ŞUBESİ | KARABAĞLAR VIP ŞUBESİ | KONAK VIP ŞUBESİ (YENİ)

(0232) 7000 345